


Test na kartę rowerową

1

To jest test jednokrotnego wyboru. Zawiera 20 pytań. Odpowiedzi należy umieścić na karcie odpowiedzi, stawiając znak X w odpowiednim polu. Aby test można było uznać za zaliczony, należy poprawnie odpowiedzieć na 16 pytań. Podwójne skreślenia przy jednym pytaniu będą traktowane jako błąd. Czas rozwiązywania testu wynosi 35 minut.

Życzymy powodzenia.

1. Kierujący, który dojeżdża do skrzyżowania, w pierwszej kolejności stosuje się do:
 - a) poleceń wydawanych przez znajdującego się tam policjanta,
 - b) sygnatów świetlnych,
 - c) znaków drogowych pionowych.
2. Zbliżając się do przejazdu kolejowego, kierujący pojazdem:
 - a) powinien prowadzić pojazd z taką prędkością, aby mógł go zatrzymać w bezpiecznym miejscu, gdy nadjeżdża pociąg,
 - b) w pewnych sytuacjach może objeżdżać opuszczone zapory,
 - c) może przejechać pod zaporami, których opuszczanie zostało rozpoczęte.
3. Kierującemu rowerem zabrania się:
 - a) czeplania się pojazdów,
 - b) zawracania,
 - c) wyprzedzania innych pojazdów.
4. Aby zmienić pas ruchu, kierujący rowerem:
 - a) powinien odpowiednio wcześniej ten manewr zasygnalizować,
 - b) może ten manewr sygnalizować tylko w trakcie dokonywania zmiany,
 - c) nie musi sygnalizować wykonywania tego manewru.
5. Kierujący rowerem porusza się po jezdni o ruchu jednokierunkowym. Jeżeli zamierza on skręcić w lewo, to powinien się zbliżyć do:
 - a) środka jezdni,
 - b) lewej krawędzi jezdni,
 - c) prawej krawędzi jezdni.
6. Jeżeli droga nie ma chodnika dla pieszych ani pobocza, to pieszy powinien:
 - a) iść jezdnią jak najbliżej jej prawej krawędzi,
 - b) iść jezdnią jak najbliżej jej lewej krawędzi,
 - c) może iść po prawej stronie jezdni, jeżeli ma żółte elementy odbłaskowe na ubraniu lub tornistrze szkolnym.
7. Przedstawiony znak zaliczamy do grupy znaków:



- a) ostrzegawczych,
- b) zakazu,
- c) informacyjnych.

8. Gdy kierujący pojazdem zbliża się do skrzyżowania oznaczonego przedstawionym znakiem, to powinien:




- a) przejechać pierwszy,
- b) ustąpić pierwszeństwa nadjeżdżającym z prawej strony,
- c) ustąpić pierwszeństwa nadjeżdżającym z lewej strony.

9. O tym, że kierujący pojazdem zbliża się do drogi z pierwszeństwem przejazdu, informuje znak:


a)



b)



c)

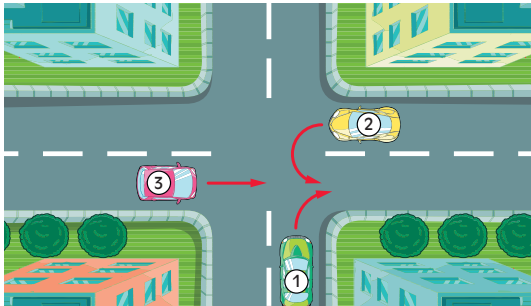


10. Przedstawiony znak informuje o wjeździe na drogę:



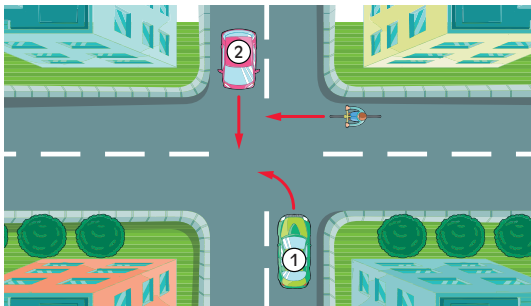
- a) o jednym pasie ruchu,
- b) o jednym kierunku ruchu,
- c) wyprzedzania.

11. Kierujący pojazdem 1 na tym skrzyżowaniu:



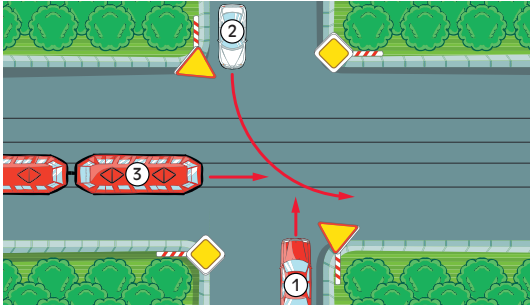
- a) ustępuje pierwszeństwa tylko pojazdowi 2,
- b) przejeżdża ostatni,
- c) przejeżdża pierwszy.

12. Kierujący rowerem na przedstawionym skrzyżowaniu:



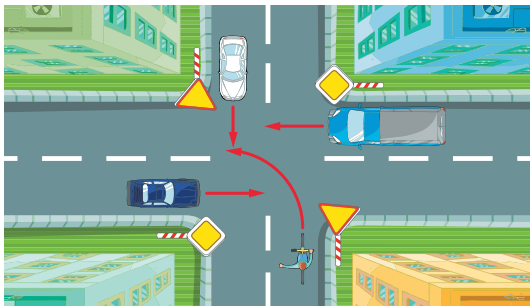
- a) ustępuje pierwszeństwa pojazdowi 1,
- b) ustępuje pierwszeństwa pojazdowi 2,
- c) przejeżdża ostatni.

13. Kierujący pojazdem 1 na przedstawionym skrzyżowaniu:



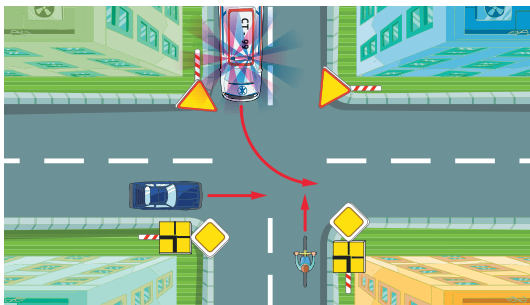
- a) ustępuje pierwszeństwa tylko pojazdowi 3,
- b) ustępuje pierwszeństwa tylko pojazdowi 2,
- c) przejeżdża ostatni.

14. W przedstawionej sytuacji kierujący rowerem przejeżdża:



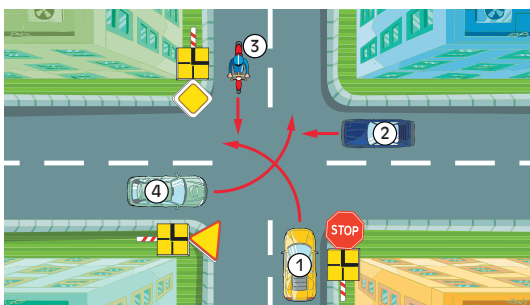
- a) pierwszy,
- b) trzeci,
- c) ostatni.

15. W przedstawionej sytuacji kierujący rowerem przejeżdża:



- a) pierwszy,
- b) drugi,
- c) ostatni.

16. Na przedstawionym skrzyżowaniu kierujący pojazdem 1:



- a) musi się zatrzymać,
- b) przejeżdża ostatni,
- c) ma pierwszeństwo przed pojazdem 3.

17. Przy złamaniu kości przedramienia należy:

- a) podać poszkodowanemu środki przeciwbólowe,
- b) unieruchomić dwa sąsiadujące ze sobą stawy,
- c) nie ruszać poszkodowanego do czasu przyjazdu lekarza.

18. Na krwawiącą ranę przed jej zabandażowaniem należy położyć:
- a) watę,
 - b) jałową gazę,
 - c) ligninę.
19. W razie podejrzenia uszkodzenia kręgosłupa na odcinku szyjnym należy:
- a) ułożyć głowę w pozycji bocznej,
 - b) unieruchomić głowę,
 - c) nie ruszać poszkodowanego do czasu przyjazdu lekarza.
20. Najbardziej niebezpieczna dla człowieka jest utrata krwi z:
- a) naczyń żylnych,
 - b) krwawiących tkanek miękkich,
 - c) naczyń tętniczych.