

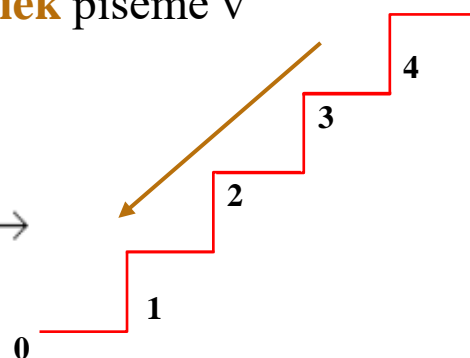
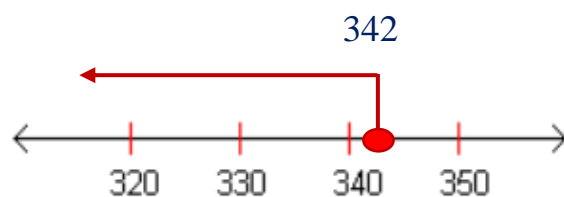
Zaokrúhľovanie čísel na stovky



Zapamätaj si:

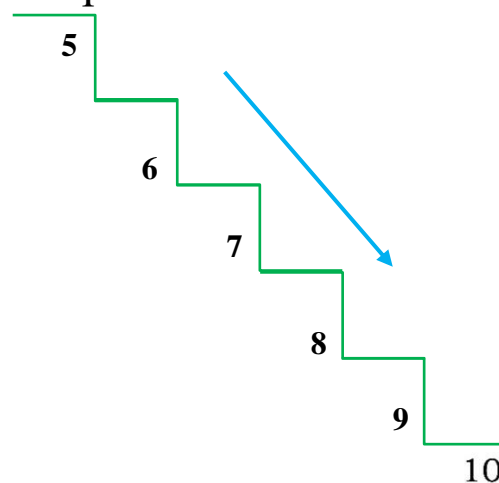
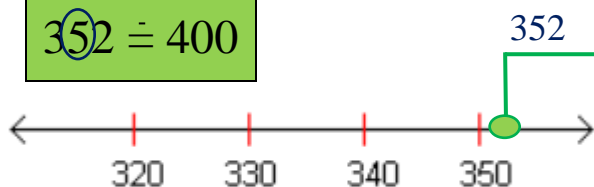
- ➔ Ak je v čísle na mieste **desiatok** číslica 0, 1, 2, 3 alebo 4, číslo zaokrúhlime **nadol**.
- ➔ Číslica na mieste stoviek sa nezmení.
- ➔ Na mieste **desiatok** a **jednotiek** píšeme v zaokrúhlenom čísle **0**.

$$342 \doteq 300$$



- ➔ Ak je v čísle na mieste **desiatok** číslica 5, 6, 7, 8 alebo 9, číslo zaokrúhlime **nahor**- k najbližšej väčšej stovke.
- ➔ Číslica na mieste stoviek sa zväčší o 1 stovku.
- ➔ Na mieste **desiatok** a **jednotiek** píšeme v zaokrúhlenom čísle **0**.

$$352 \doteq 400$$



➔ Číslo, ktoré má na mieste desiatok aj jednotiek 0, sa pri zaokrúhľovaní na stovky nezmení.

$$400 \doteq 400$$

EŠTE RAZ



Zaokrúhli čísla na stovky:

Vzor: $226 \doteq 200$

$$627 \doteq \square$$

$$310 \doteq \square$$

$$281 \doteq \square$$

$$446 \doteq \square$$

$$859 \doteq \square$$

$$732 \doteq \square$$

$$133 \doteq \square$$

$$226 \doteq \square$$



$$519 \doteq \square$$

$$263 \doteq \square$$

$$873 \doteq \square$$

$$154 \doteq \square$$

$$334 \doteq \square$$

$$704 \doteq \square$$

$$575 \doteq \square$$

$$600 \doteq \square$$